

## Задания третьего тематического турнира «ЮБИЛЕЙНЫЙ»

**Задание 1.** Ярославский край имеет богатую литературную историю, связанную с именами многих выдающихся русских поэтов и писателей.

На приведенной ниже карте отмечен ряд объектов Ярославской области, связанных с жизнью некоторых писателей или послуживших прототипами для их произведений. **Определите названия объектов и фамилии писателей, с ними связанными.**



В окрестностях **объекта №1** бывал русский драматург **(А)**. Персонажи легенд и сказок, которые услышал драматург здесь, легли в основу пьесы-сказки «Снегурочка».

На территории **объекта №2**, имеющего статус национального парка, расположены места, описанные писателем **(Б)** в произведении «Кладовая Солнца».

В окрестностях **объекта №3**, основанного Юрием Долгоруким, жил писатель **(В)** – автор детских книг, популярных персонажей – Крокодила Гены, Чебурашки, кота Матроскина, Дяди Федора.

**Объект №4** посещал писатель **(Г)**, когда следовал на остров Сахалин, а впоследствии посещал брата.

На территории **объекта №5** – десятого по площади района области – находилось родовое имение отца писателя **(Д)**, перу которого принадлежит произведение «Путешествие из Петербурга в Москву». Екатерина II назвала автора «бунтовщиком хуже Пугачёва».

Ярославскую область, прежде всего, олицетворяют с именем Николая Алексеевича Некрасова. На карте области есть «район», называемый «Некрасовское Заволжье».

**Что стоит понимать под «Некрасовским Заволжьем»? Какие объекты Ярославской области принято относить к «Некрасовскому Заволжью»? Какие произведения этого поэта связаны с «Некрасовским Заволжьем»? Какой объект, связанный с именем Некрасова, не относится к «Некрасовскому Заволжью»?**

**Мах: 20 баллов**

**Задание 2.** О двух объектах известно следующее: Объект А расположен на территории Ярославской области, а объект Б – за её пределами. Оба объекта обладают одинаковым статусом с той лишь разницей, что у объекта А он распространяется только на территорию области, а у объекта Б – на всю Россию. Расстояние до Северного полюса от этих объектов составляет 3566,8 (А) и 2577,05 (Б) км. До начала 20 века долготы данных пунктов соответственно составляли бы 9°08'в.д. и 63°46'в.д.

**Определите, какие реальные географические объекты значатся под буквами А и Б? Каким статусом они обладают? Определите их географические координаты. Приведите расчеты.**

**Мах: 15 баллов**

**Задание 3.** На областной конкурс красоты съехались представительницы из разных населенных пунктов Ярославской области. Перед конкурсом некоторых из них попросили рассказать что-нибудь интересное про те места, откуда они приехали.

**Лена:** На гербе моего города сразу изображено сразу два животных, а жителей в городе меньше, чем там, где живет, Валентина.

**Виктория:** в моем населенном пункте родился самый известный аниматор России, которого наградили Оскаром.

**Светлана:** Я живу западнее Лены и южнее, чем Вика. А жителей в моем населенном пункте меньше, чем там, где живут и Лена, и Вика. Мой родной населенный пункт в 30-40-х гг прошлого столетия был вынужден «переехать» на новое место.

**Раиса:** Название моего города, по одной из версий, связано с особенностями реки, на которой он стоит.

**Вероника:** На гербе района, центром которого является мой родной населенный пункт, присутствует символ  $(X_1)$ , указывающий на особенности географического положения.

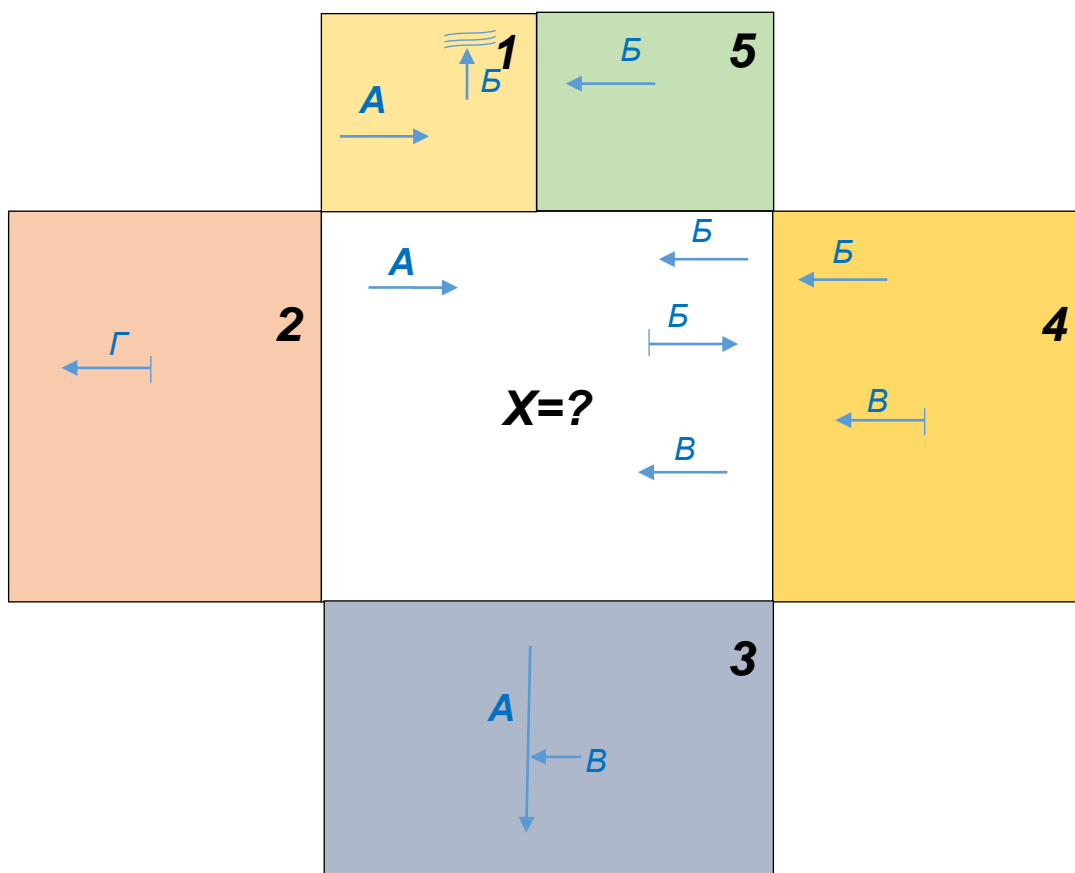
**Валентина:** Я приехала из населенного пункта, который является центром района. И только сейчас заметила, что если в названии района, которое было до 1938 года, заменить одну букву, то выйдет название района, из которого приехала Вероника.

**Определите, из каких населенных пунктов приехали эти девушки?**

Где проводился конкурс красоты, если известно, что этот населенный пункт стоит на берегу реки  $(X_2)$ , служащей одним из истоков самого большого в пределах области притока  $(X_3)$  главной реки региона.





**Мах: 15 баллов**

**Задание 4.** На представленной ниже схеме в центре белым прямоугольником показан муниципальный район X. Районы, граничащие с ним, изображены цветными прямоугольниками, в которых представлена информация о некоторых реках, в них протекающих. **Определите район X и всех его соседей. Назовите реки, зашифрованные на схеме буквами А, Б, В, Г.**



**Куда впадает река Г, обозначенная на территории второго соседа?  
На территории какого района это происходит?  
Куда впадает река Б?**

**Условные обозначения:**

	Река в пределах данной территории принимает приток или сливается с другой		Река впадает в море в пределах данной территории (устье)
	Река протекает через данную территорию транзитом		Река берет свой исток на данной территории

**Мах: 23 балла**

**Задание 5.** Данный тип природных объектов занимает 4,5% площади территории области. Эрзянско-мокшанский вариант произношения этих объектов дал название столице одной из республик в составе России. В пределах области есть объект с подобным эрзянско-мокшанскому названием.

**О каких объектах идет речь? На какие группы и по какому признаку чаще всего разделяют данные объекты? Приведите примеры расположенных в пределах области объектов каждой группы?**

**Какой из объектов данного типа в пределах области является самым большим? Какие из объектов этого типа, расположенных в области, упоминаются в известных литературных произведениях? Назовите эти произведения и их авторов.**

**Как данные объекты именуются на языке эрзя и мокша? О каком городе, республике идет речь в описании?**

**Какой из объектов в области имеет название, аналогичное эрзянско-мокшанскому?**

**Мах: 20 баллов**